

とき方

- ①空の上から町を見ていることを想像してください。
- ②それぞれのマスには1階建てから4階建てのビルが建てられていますが、上から見ているので何階建てかわかりません。
- ③このパズルはマスの中に建てられているビルが何階建てなのかをあてるものです。
- ④\*矢印の数字をヒントにビルが何階建てなのかを数字で答えて下さい。
- ⑤ただし、同じ列(たて・横)に同じ数字は入りません。

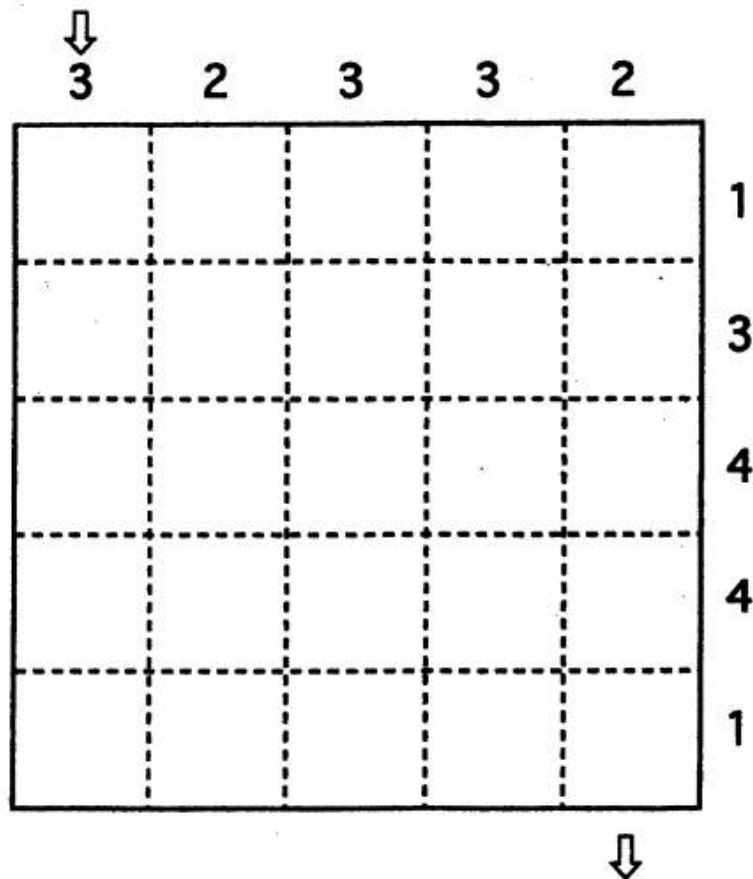
\* 矢印の数字

矢印の数字はその方向から見たときに見えるビルの数です。  
 小さなビルが大きなビルの後ろにかくれてしまうと見ることはできません。  
 たとえば、ビルが 2341 と横にならんでいる場合には、左から見ると3つのビルが見え、右から見ると2つのビルが見えます。  
 わかりにくい場合は積木を使って考えるとよいでしょう。

# 道みつけ

制限時間 / 3分

⇒から⇒まで、下の約束にしたがって、道を見つけてください。



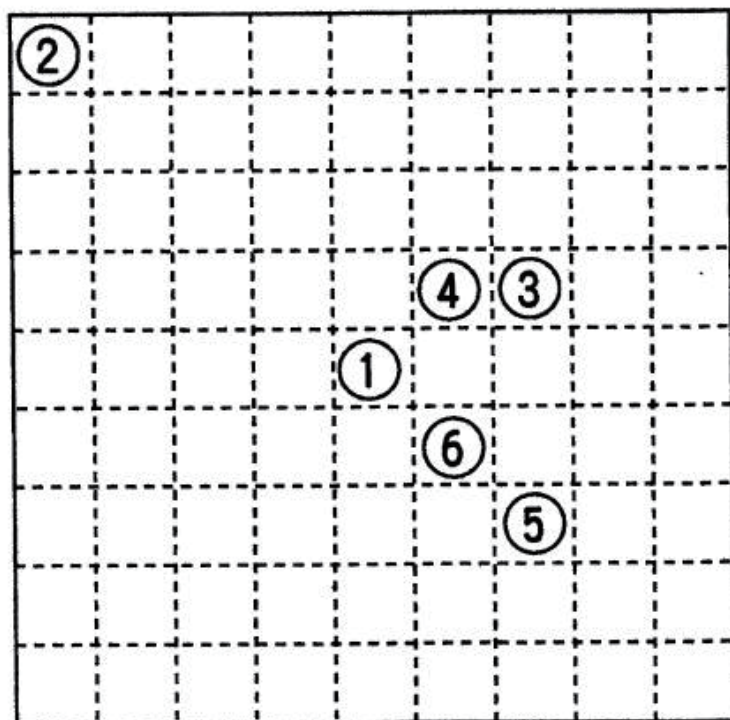
## <約束>

1. 同じマスは、1回しか 通れません。
2. 斜めには 進めません。
3. 数字は その列のマスのうち 道が通る数を あらわしています。

## ネットワークⅡ

制限時間 / 3分

ルールにしたがって、解答してください。

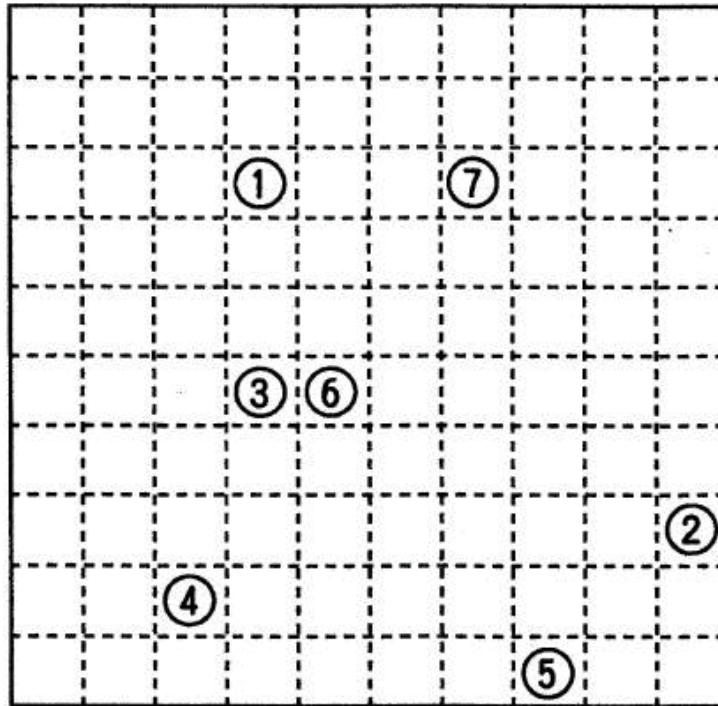


1. 数字の順番 (①②……) どおりに、たて、よこ、の線で、結んでください。(ななめの線で、むすんではいけません。)
2. 線は、交わってはいけません。
3. すべてのマスを使ってください。  
(あいたマスを作ってはいけません。)

## ネットワークⅡ

制限時間 / 3分

ルールにしたがって、解答してください。



1. 数字の順番 (①②……) どおりに、たて、よこ、の線で、結んでください。(ななめの線で、むすんではいけません。)
2. 線は、交わってはいけません。
3. すべてのマスを使ってください。  
(あいたマスを作ってはいけません。)