





おなじかずはどれですか





レッスン⑧

ひだりはしのものと おなじ かずの ものに ○を してください。





(1)

			
---	---	--	---





(2)

			
---	--	--	---

(3)

			
---	---	---	---

(4)

			
---	---	--	---

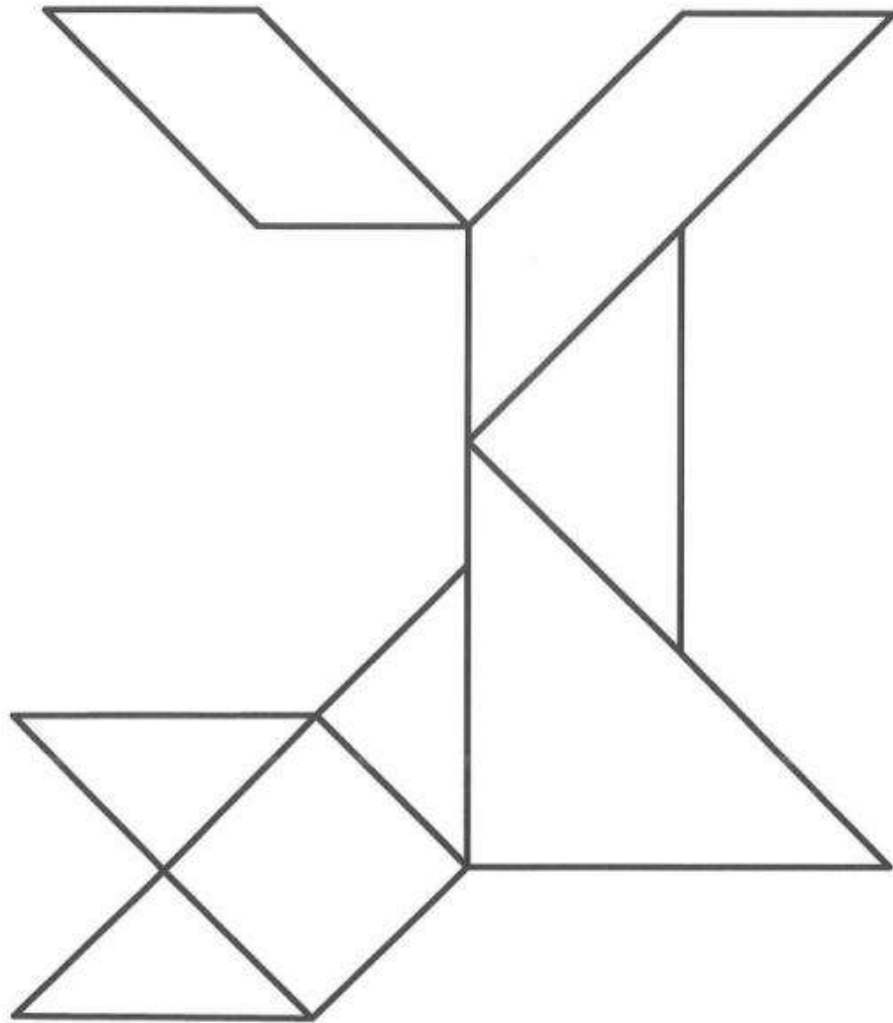
さくらグレード③/きかI もくじ

このレッスンでは、《天地パズル》が必要になります。
空間能力の育成が目的となります。

レッスン	内 容	ページ	学習日	メモ
①	天地パズル/点描写(縦横) 高低比較/平面位置	15～18	月 日	
②	天地パズル/点描写(縦横) 高低比較/図形の重なり	19～22	月 日	
③	天地パズル/点描写(縦横) 上下比較/面描写	23～26	月 日	
④	天地パズル/点描写(縦横) 上下比較/図形の重なり	27～30	月 日	
⑤	天地パズル/点描写(縦横) 前後比較/平面位置	31～34	月 日	
⑥	天地パズル/点描写(縦横) 前後比較/面描写	35～38	月 日	
⑦	天地パズル/点描写(斜め) 高低比較/図形の重なり	39～42	月 日	
⑧	天地パズル/点描写(斜め) 高低比較/平面位置	43～46	月 日	
⑨	天地パズル/点描写(斜め) 上下比較/図形の重なり	47～50	月 日	
⑩	天地パズル/点描写(斜め) 上下比較/平面位置	51～54	月 日	
⑪	天地パズル/点描写(斜め) 前後比較/平面位置	55～58	月 日	

きつね<天地パズル>




















レッスン①



絵の合成

レッスン①

左端の 絵と あうものを 右から さがして ○を してください。

(1) 	① 	② 	③ 	④ 
(2) 	① 	② 	③ 	④ 
(3) 	① 	② 	③ 	④ 
(4) 	① 	② 	③ 	④ 