


ピアノ <ペリカンパズル>



ぶんしょうもんだい

つぎのぶんをよんで こたえてください。

- (1) あるかずに、34をたしたら、71になりました。
あるかずは いくつですか。

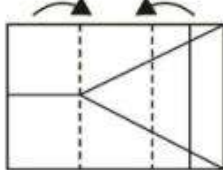
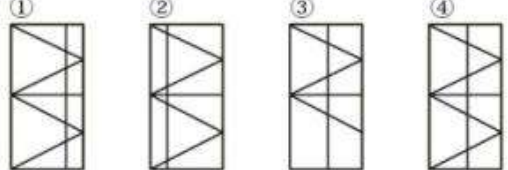
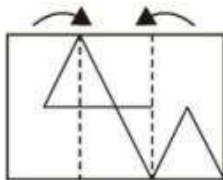
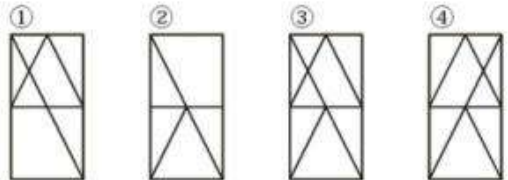
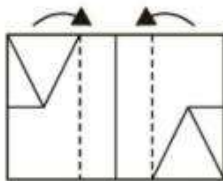
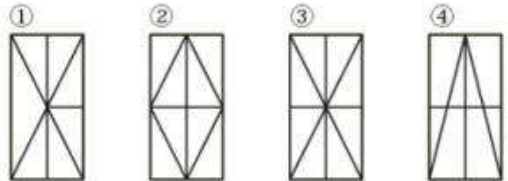
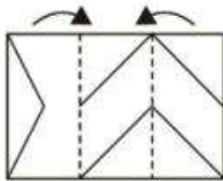
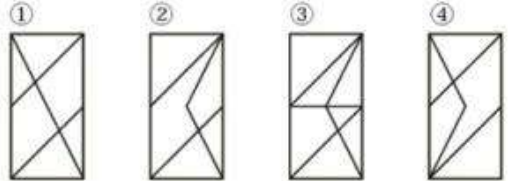
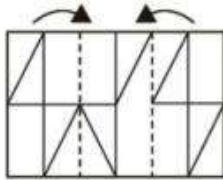
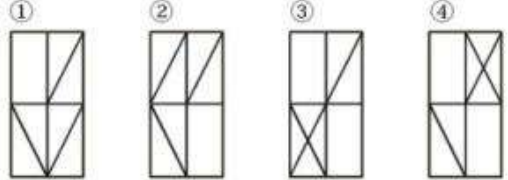
- (2) あやねちゃんの クラスは、男子(だんし)は 17人で
女子(じょし)は 18人です。
あやねちゃんの クラスのせいと数は 何人ですか。

- (3) マリンちゃんは おはじきを 80こ もっていたので、
いもうとに 37こ あげました。
おはじきの かずは いくつに なったのでしょうか。

折り重なり図形 / 3枚

左の形を やじるしのほうこうへ 点線のところで折ると

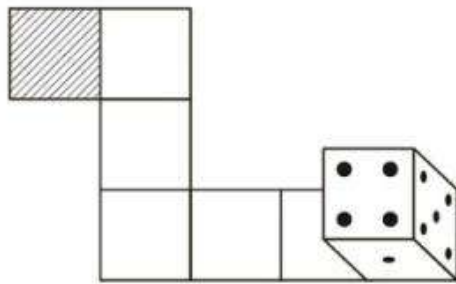
どのように なりますか。みつけて ○を しなさい。(書き込まないこと)

<p>(1)</p> 	<p>① ② ③ ④</p> 
<p>(2)</p> 	<p>① ② ③ ④</p> 
<p>(3)</p> 	<p>① ② ③ ④</p> 
<p>(4)</p> 	<p>① ② ③ ④</p> 
<p>(5)</p> 	<p>① ② ③ ④</p> 

サイコロころころ

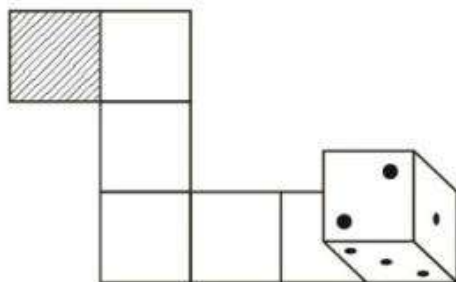
サイコロを 図のような位置から 道にそって ころがしていくと 斜線の位置では サイコロの上の面の 数は いくつですか。(途中の上の面も全て書いてください)

(1)



(1) ()

(2)



(2) ()